

# Lesen & Lernen



Ausgabe 3

Fußball-WM  
Finalrunde

# Lesen & Lernen



Ausgabe 3

Fußball-WM  
Finalrunde

## Die Stadien der WM

Die WM findet in 12 Stadien statt.

Die Stadien stehen in 11 verschiedenen Städten.

In Moskau stehen zwei Fußballstadien.

Das Luschniki-Stadion ist gleichzeitig auch das größte Stadion.

Dort gibt es für 80.000 Menschen Sitzplätze.

Das zweite Stadion in Moskau ist das Spartakstadion.

Dort passen jedoch nur 45.000 Zuschauer hinein.



Wie viele Stadien gibt es bei der WM?

---

Wie viele Menschen passen in das größte Stadion der WM?

---

## Die Stadien der WM

Die WM findet in 12 Stadien statt.

Die Stadien stehen in 11 verschiedenen Städten.

In Moskau stehen zwei Fußballstadien.

Das Luschniki-Stadion ist gleichzeitig auch das größte Stadion.

Dort gibt es für 80.000 Menschen Sitzplätze.

Das zweite Stadion in Moskau ist das Spartakstadion.

Dort passen jedoch nur 45.000 Zuschauer hinein.



Wie viele Stadien gibt es bei der WM?

---

Wie viele Menschen passen in das größte Stadion der WM?

---

Das weiß ich noch über die Stadien



Das weiß ich noch über die Stadien



Deutschland

Deutschland spielt nicht in der Finalrunde.

Das deutsche Team ist ausgeschieden.


Die Mannschaft konnte nur ein Spiel gewinnen.

Bei diesem Spiel konnte sie Schweden 2:1 besiegen.

Das erste Spiel verlor Deutschland mit 0:1 gegen Mexiko.

Im letzten Spiel verlor Deutschland mit 0:2 gegen Südkorea.

Deutschland hat zum ersten Mal nicht die Finalrunde erreicht.



Gegen welche Mannschaft konnte Deutschland gewinnen?

---

Wie viele Gegentore hat Deutschland insgesamt bekommen?

---

Deutschland

Deutschland spielt nicht in der Finalrunde.

Das deutsche Team ist ausgeschieden.



Die Mannschaft konnte nur ein Spiel gewinnen.

Bei diesem Spiel konnte sie Schweden 2:1 besiegen.

Das erste Spiel verlor Deutschland mit 0:1 gegen Mexiko.

Im letzten Spiel verlor Deutschland mit 0:2 gegen Südkorea.

Deutschland hat zum ersten Mal nicht die Finalrunde erreicht.



Gegen welche Mannschaft konnte Deutschland gewinnen?

---

Wie viele Gegentore hat Deutschland insgesamt bekommen?

---



Das weiß ich über die bisherigen Spiele bei der WM: Q



Das weiß ich über die bisherigen Spiele bei der WM: Q



Uruguay

Uruguay spielte in Gruppe A.

Das Trikot von Uruguay ist hellblau.



Dazu tragen die Spieler schwarze Hosen und schwarze Stutzen.

Uruguay hat in seiner Gruppe alle 3 Spiele gewinnen können.

Dabei haben sie kein einziges Gegentor bekommen.

Der erfolgreichste Spieler bisher ist Luis Suarez.

Er konnte in den drei Spielen schon zwei Tore schießen.



Wie viele Spiele konnte Uruguay gewinnen?

---

Wie viele Tore hat Luis Suarez geschossen?

---

Uruguay

Uruguay spielte in Gruppe A.

Das Trikot von Uruguay ist hellblau.



Dazu tragen die Spieler schwarze Hosen und schwarze Stutzen.

Uruguay hat in seiner Gruppe alle 3 Spiele gewinnen können.

Dabei haben sie kein einziges Gegentor bekommen.

Der erfolgreichste Spieler bisher ist Luis Suarez.

Er konnte in den drei Spielen schon zwei Tore schießen.



Wie viele Spiele konnte Uruguay gewinnen?

---

Wie viele Tore hat Luis Suarez geschossen?

---

## Spanien

Spanien hat die Gruppe B gewonnen.

Das Trikot des spanischen Teams ist rot.



Die Hose ist dunkelblau und die Stutzen sind schwarz.

In der Vorrunde haben die Spanier nur ein Spiel gewonnen.

Sie konnten die iranische Mannschaft mit 1:0 besiegen.

Gegen die Portugiesen spielten sie 3:3.

Diego Costa hat in diesem Spiel 2 Tore geschossen.



In welcher Gruppe hat Spanien gespielt?

---

Gegen welche Mannschaft hat Diego Costa 2 Tore gemacht?

---

## Spanien

Spanien hat die Gruppe B gewonnen.

Das Trikot des spanischen Teams ist rot.



Die Hose ist dunkelblau und die Stutzen sind schwarz.

In der Vorrunde haben die Spanier nur ein Spiel gewonnen.

Sie konnten die iranische Mannschaft mit 1:0 besiegen.

Gegen die Portugiesen spielten sie 3:3.

Diego Costa hat in diesem Spiel 2 Tore geschossen.



In welcher Gruppe hat Spanien gespielt?

---

Gegen welche Mannschaft hat Diego Costa 2 Tore gemacht?

---

## Schweden

Schweden spielte in der deutschen Gruppe.

Das Trikot der Schweden ist gelb.


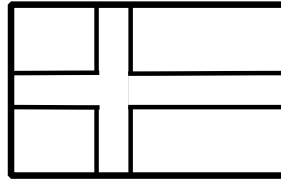
Auch die Stutzen sind gelb. Die Hose ist blau.

Die Schweden haben in der Gruppe F den ersten Platz erreicht.

Sie konnten gegen Mexiko und gegen Südkorea gewinnen.

Gegen die deutsche Mannschaft haben sie knapp verloren.

Kroos hat kurz vor Schluss das 2:1 für Deutschland gemacht.



Welche Teams spielten in Gruppe F?

---

Wie hat Schweden gegen Deutschland gespielt?

---

## Schweden

Schweden spielte in der deutschen Gruppe.

Das Trikot der Schweden ist gelb.


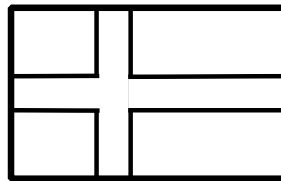
Auch die Stutzen sind gelb. Die Hose ist blau.

Die Schweden haben in der Gruppe F den ersten Platz erreicht.

Sie konnten gegen Mexiko und gegen Südkorea gewinnen.

Gegen die deutsche Mannschaft haben sie knapp verloren.

Kroos hat kurz vor Schluss das 2:1 für Deutschland gemacht.



Welche Teams spielten in Gruppe F?

---

Wie hat Schweden gegen Deutschland gespielt?

---



## Schweiz

Die Schweiz spielte in Gruppe E.

Ihr Trikot ist rot, genauso wie die Stutzen.



Die Hose der Schweizer ist weiß.

Die Schweiz hat bisher noch kein Spiel verloren.

Sogar gegen Brasilien konnten sie ein Unentschieden holen.

Sie haben nun zum 7. Mal das Achtelfinale erreicht.

Dort spielt die Schweiz gegen Schweden.



Gegen welche Mannschaft hat die Schweiz verloren?

---

Gegen wen spielt die Schweiz im Achtelfinale?

---

## Schweiz

Die Schweiz spielte in Gruppe E.

Ihr Trikot ist rot, genauso wie die Stutzen.



Die Hose der Schweizer ist weiß.

Die Schweiz hat bisher noch kein Spiel verloren.

Sogar gegen Brasilien konnten sie ein Unentschieden holen.

Sie haben nun zum 7. Mal das Achtelfinale erreicht.

Dort spielt die Schweiz gegen Schweden.



Gegen welche Mannschaft hat die Schweiz verloren?

---

Gegen wen spielt die Schweiz im Achtelfinale?

---

Belgien

Belgien spielte in Gruppe G.

Die Ausrüstung der Belgier ist komplett rot.


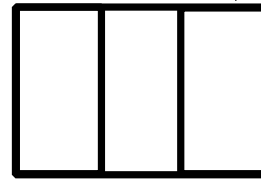
Auf dem Trikot ist an der Brust ein Muster gedruckt.

Belgien hat in der Vorrunde alle Spiele gewonnen.

Kein anderes Team hat so viele Tore wie Belgien geschossen.

Der erfolgreichste Stürmer der Belgier ist Romelu Lukaku.

Er hat schon vier Tore geschossen.



Welcher belgische Spieler hat 4 Tore geschossen?

---

Welchen Rekord hat Belgien in der Vorrunde erreicht?

---

Belgien

Belgien spielte in Gruppe G.

Die Ausrüstung der Belgier ist komplett rot.



Auf dem Trikot ist an der Brust ein Muster gedruckt.

Belgien hat in der Vorrunde alle Spiele gewonnen.

Kein anderes Team hat so viele Tore wie Belgien geschossen.

Der erfolgreichste Stürmer der Belgier ist Romelu Lukaku.

Er hat schon vier Tore geschossen.



Welcher belgische Spieler hat 4 Tore geschossen?

---

Welchen Rekord hat Belgien in der Vorrunde erreicht?

---

Dänemark

Dänemark spielte in Gruppe C.

Das Trikot von Dänemark ist rot.


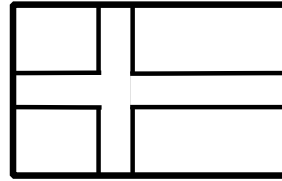
Dazu tragen die Spieler weiße Hosen und rote Stutzen.

Dänemark hat auch das Achtelfinale erreicht.

Dabei konnte das dänische Team bisher erst zwei Tore schießen.

Den einzigen Sieg holte Dänemark gegen Peru.

Nun muss Dänemark gegen Kroatien spielen?



Wie viele Spiele hat Dänemark bisher gewinnen können?

---

Gegen welches Team spielt Dänemark im Achtelfinale?

---

Dänemark

Dänemark spielte in Gruppe C.

Das Trikot von Dänemark ist rot.


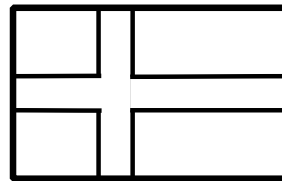
Dazu tragen die Spieler weiße Hosen und rote Stutzen.

Dänemark hat auch das Achtelfinale erreicht.

Dabei konnte das dänische Team bisher erst zwei Tore schießen.

Den einzigen Sieg holte Dänemark gegen Peru.

Nun muss Dänemark gegen Kroatien spielen?



Wie viele Spiele hat Dänemark bisher gewinnen können?

---

Gegen welches Team spielt Dänemark im Achtelfinale?

---

Frankreich

Russland spielte auch in Gruppe C.

Das französische Trikot ist blau.



Daher nennt man das Team in Frankreich auch die Blauen.

Die Hose ist weiß und die Stutzen sind rot.

Damit hat die Ausrüstung die gleichen Farben wie die Fahne.

In der Vorrunde konnte Frankreich zwei Siege erreichen.

Nur gegen Dänemark spielte das französische Team 0:0.



Die nennen die Franzosen ihre Nationalmannschaft?

---

Wie oft spielte Frankreich in der Vorrunde unentschieden?

---

Frankreich

Russland spielte auch in Gruppe C.

Das französische Trikot ist blau.


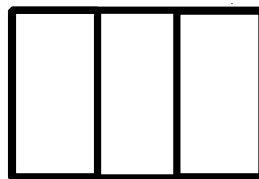
Daher nennt man das Team in Frankreich auch die Blauen.

Die Hose ist weiß und die Stutzen sind rot.

Damit hat die Ausrüstung die gleichen Farben wie die Fahne.

In der Vorrunde konnte Frankreich zwei Siege erreichen.

Nur gegen Dänemark spielte das französische Team 0:0.



Die nennen die Franzosen ihre Nationalmannschaft?

---

Wie oft spielte Frankreich in der Vorrunde unentschieden?

---

Kroatien

Kroatien spielte in Gruppe D.

Das Trikot von Kroatien ist rot-weiß kariert.

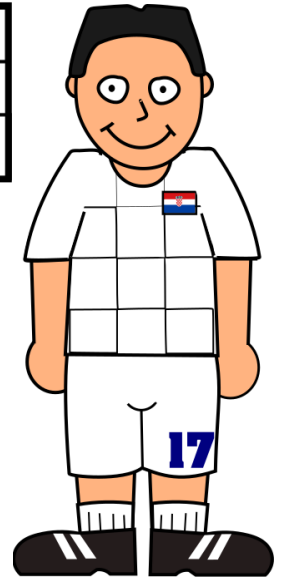
Dazu tragen die Spieler weiße Hosen und weiße Stutzen.

Kroatien hat in der Vorrunde alle Spiele gewonnen.

Der bekannteste Spieler Kroatiens ist Luka Modric.

Er konnte bisher zwei Tore für sein Land schießen.

Im Achtelfinale spielt Kroatien gegen Dänemark.



Welche Farben hat das Trikot der Kroaten?

---

Wie viele Tore konnte Luka Modric bisher schießen?

---

Kroatien

Kroatien spielte in Gruppe D.

Das Trikot von Kroatien ist rot-weiß kariert.

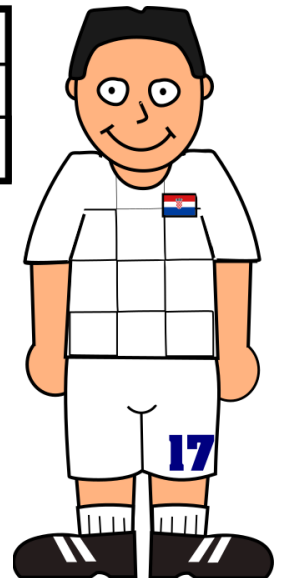
Dazu tragen die Spieler weiße Hosen und weiße Stutzen.

Kroatien hat in der Vorrunde alle Spiele gewonnen.

Der bekannteste Spieler Kroatiens ist Luka Modric.

Er konnte bisher zwei Tore für sein Land schießen.

Im Achtelfinale spielt Kroatien gegen Dänemark.



Welche Farben hat das Trikot der Kroaten?


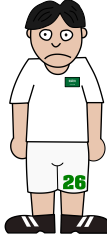


---

Wie viele Tore konnte Luka Modric bisher schießen?

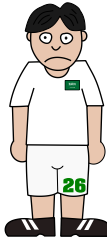

---



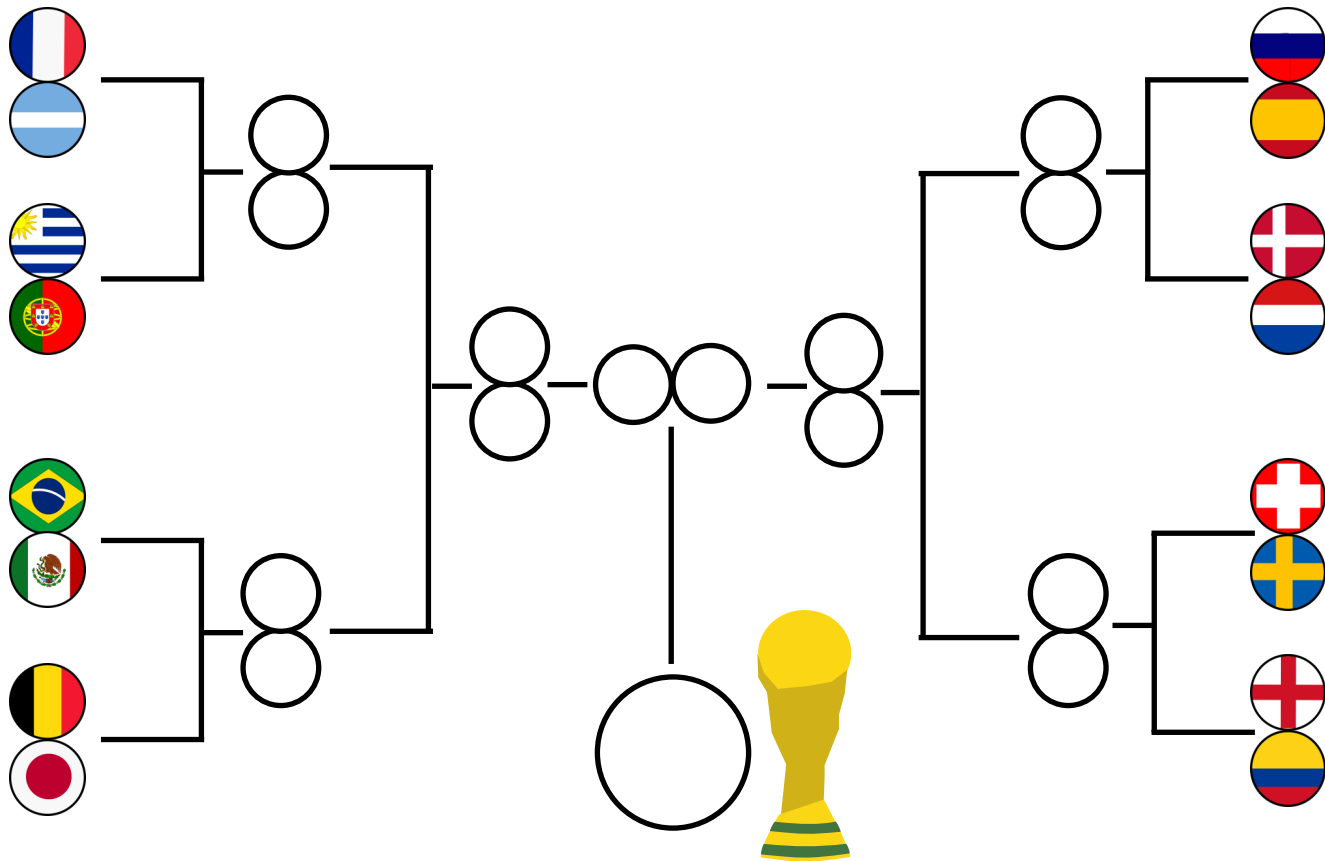
Diese 16 Teams sind ausgeschieden:



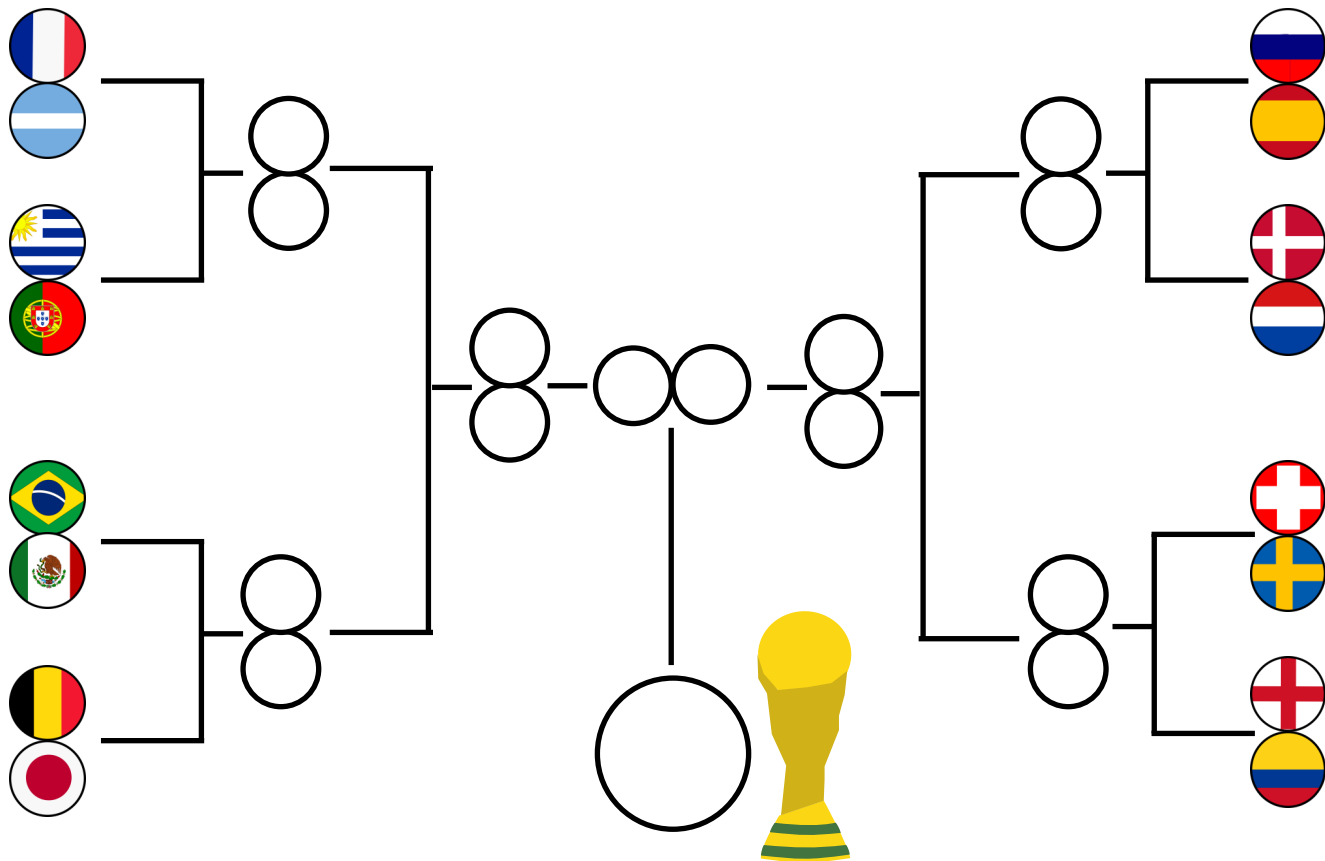
Diese 16 Teams sind ausgeschieden:



So läuft die Finalrunde:



So läuft die Finalrunde:





Das habe ich mir zur Fußball-WM 2018 gemerkt



Dieses Heft ist von F. Emrich erstellt und unter der Lizenz cc-by 4.0 veröffentlicht worden.  
Es kann (neben weiteren Heften) unter <https://grundschulernportal.zum.de> oder  
<https://www.emrich.in> kostenlos heruntergeladen werden.  
Bearbeitung und/oder Weiterverbreitung sind streng erwünscht!



Das habe ich mir zur Fußball-WM 2018 gemerkt



Dieses Heft ist von F. Emrich erstellt und unter der Lizenz cc-by 4.0 veröffentlicht worden.  
Es kann (neben weiteren Heften) unter <https://grundschulernportal.zum.de> oder  
<https://www.emrich.in> kostenlos heruntergeladen werden.  
Bearbeitung und/oder Weiterverbreitung sind streng erwünscht!

